

平成 28 年度 春期
IT パスポート試験
公開問題

試験時間	120 分
問題番号	問 1 ～ 問 100
選択方法	全問必須

注意事項

1. 問題に関する質問にはお答えできません。文意どおり解釈してください。
2. 表計算ソフトの機能・用語は、この冊子の末尾を参照してください。

問1から問34までは、ストラテジ系の小問です。

問1 連結会計システムの開発に当たり、機能要件と非機能要件を次の表のように分類した。aに入る要件として、適切なものはどれか。

機能要件	非機能要件	
<ul style="list-style-type: none">・国際会計基準に則った会計処理が実施できること・決算処理結果は、経理部長が確認を行うこと・決算処理の過程を、全て記録に残すこと	<ul style="list-style-type: none">・最も処理時間を要するバッチ処理でも、8時間以内に終了すること・ <table border="1" data-bbox="738 587 1136 625"><tr><td>a</td></tr></table>・保存するデータは全て暗号化すること	a
a		

- ア 故障などによる年間停止時間が、合計で10時間以内であること
- イ 誤入力した伝票は、訂正用伝票で訂正すること
- ウ 法定帳票以外に、役員会用資料作成のためのデータを自動抽出できること
- エ 連結対象とする会社は毎年変更できること

問2 不正アクセス禁止法で規制されている行為だけを全て挙げたものはどれか。

- a Webサイトの利用者IDとパスワードを、本人に無断で第三者に提供した。
- b ウイルスが感染しているファイルを、誤って電子メールに添付して送信した。
- c 営業秘密の情報が添付されている電子メールを、誤って第三者に送信した。
- d 著作権を侵害している違法なサイトを閲覧した。

ア a イ a, b ウ a, b, c エ a, d

問3 インターネットショッピングにおいて、個人がアクセスしたWebページの閲覧履歴や商品の購入履歴を分析し、関心のありそうな情報を表示して別商品の購入を促すマーケティング手法はどれか。

ア アフィリエイト

イ オークション

ウ フラッシュマーケティング

エ レコメンデーション

問4 健全な資本市場の維持や投資家の保護を目的として、適切な情報開示のために整備されたものはどれか。

ア クーリングオフ制度

イ 製造物責任法

ウ 内部統制報告制度

エ 不正アクセス禁止法

問5 ERPパッケージの特徴として適切なものはどれか。

ア 業界独特の業務を統合的に支援するシステムなので、携帯電話事業などの一部の業種に限って利用されている。

イ 財務会計業務に限定したシステムであるので、一般会計処理に会計データを引き渡すまでの機能は、別途開発又は購入する必要がある。

ウ 種々の業務関連アプリケーションを処理する統合業務システムであり、様々な業種及び規模の企業で利用されている。

エ 販売、仕入、財務会計処理を統合したシステムであり、個人商店などの小規模企業での利用に特化したシステムである。

問6 情報システムの構築に当たり、要件定義から開発作業までを外部に委託し、開発したシステムの運用は自社で行いたい。委託の際に利用するサービスとして、適切なものはどれか。

- ア SaaS (Software as a Service)
- イ システムインテグレーションサービス
- ウハウジングサービス
- エ ホスティングサービス

問7 情報リテラシに該当するものはどれか。

- ア PCの新製品情報、各機種のパフォーマンスを知っていること
- イ 技術革新が社会に及ぼす影響を洞察できること
- ウ 業務に必要なデータを検索し、目的に合わせて活用できること
- エ 高度なプログラム言語を使ってソフトウェアを開発できること

問8 著作権法による保護の対象となるものはどれか。

- | | |
|-----------|-----------|
| ア アルゴリズム | イ 操作マニュアル |
| ウ プログラム言語 | エ プロトコル |

問9 大手システム開発会社A社からプログラムの作成を受託しているB社が下請代金支払遅延等防止法（以下、下請法）の対象会社であるとき、下請法に基づく代金の支払いに関する記述のうち、適切なものはどれか。

- ア A社はプログラムの受領日から起算して60日以内に、検査の終了にかかわらず代金を支払う義務がある。
- イ A社はプログラムの受領日から起算して60日を超えても、検査が終了していなければ代金を支払う義務はない。
- ウ B社は確実な代金支払いを受けるために、プログラム納品日から起算して60日間はA社による検査を受ける義務がある。
- エ B社は代金受領日から起算して60日後に、納品したプログラムに対するA社の検査を受ける義務がある。

問10 図のソフトウェアライフサイクルを、運用プロセス、開発プロセス、企画プロセス、保守プロセス、要件定義プロセスに分類したとき、aに当てはまるものはどれか。ここで、aと網掛けの部分には、開発、企画、保守、要件定義のいずれかが入るものとする。



- ア 開発
- イ 企画
- ウ 保守
- エ 要件定義

問11 CRMに必要な情報として、適切なものはどれか。

- ア 顧客データ、顧客の購買履歴
- イ 設計図面データ
- ウ 専門家の知識データ
- エ 販売日時、販売店、販売商品、販売数量

問12 A社の子会社であるB社では、A社の製品も販売している。A社とB社の当期の売上高、売上原価、売上総利益が表のとおりであり、当期のA社の売上高におけるB社への販売分が2,000百万円である。このとき、連結損益計算書における当期仕入高は何百万円か。ここで、A社はB社からの仕入はないものとする。

A社損益計算書	単位	百万円
売上高		20,000
売上原価		12,000
期首棚卸高		1,000
当期仕入高		13,000
期末棚卸高		2,000
売上総利益		8,000

B社損益計算書	単位	百万円
売上高		6,000
売上原価		3,000
期首棚卸高		1,000
当期仕入高		3,000
期末棚卸高		1,000
売上総利益		3,000

ア 11,000

イ 12,000

ウ 14,000

エ 16,000

問13 BPM (Business Process Management) の考えに基づいた業務改善に関する説明として、最も適切なものはどれか。

- ア 企業内のデータを統合し、これを用いて業務上の意思決定の支援を図る。
- イ 業務と経営資源を統合的に管理し、経営資源の活用方法の改善を図る。
- ウ 業務の実行結果などから業務プロセス自体を見直し、継続的な改善を図る。
- エ 業務プロセスの分業化を進め、作業効率の向上を図る。

問14 紙に書かれた過去の文書や設計図を電子ファイル化して、全社で共有したい。このときに使用する機器として、適切なものはどれか。

- | | |
|-----------|--------|
| ア GPS 受信機 | イ スキャナ |
| ウ デジタイザ | エ プロッタ |

問15 技術開発戦略の策定に当たって、分析を行うために用いる技術ポートフォリオの説明として、適切なものはどれか。

- ア 技術水準や技術の成熟度を軸にしたマトリックスに、市場における自社の技術の位置づけを示したもの
- イ 自社製品の開発開始から損益分岐点に達するまでの期間、投資の累計、利益の累計などを示したもの
- ウ 自社で開発すべき技術の開発日程や到達目標、開発技術と新製品やビジネスプランとの関連などを示したもの
- エ 自社の保有する技術を要素技術に分解し、木構造の形式で体系的に示したもの

問16 企業がISO 9001を導入することによって期待できるメリットのうち、適切なものはどれか。

- ア 企業の貿易手続が標準化され、効率の向上や非関税障壁の減少につながる。
- イ 業界で技術仕様が標準化され、製品の品質の向上や市場の拡大が進む。
- ウ 情報資産の取扱方法が標準化され、情報セキュリティの品質が向上する。
- エ 品質管理に関する業務運営が標準化され、管理の質や効率が向上する。

問17 SNSをマーケティングに活用した事例として、最も適切なものはどれか。

- ア インターネットで注文された商品の引渡しとその代金の受取りを支障なく行う。
- イ 書込み機能を利用して、登録会員に自社商品の評価内容を記載してもらう。
- ウ 検索エンジンによる検索結果の上位に自社サイトを表示させて、訪問者増を狙う。
- エ 同業他社よりも安い価格を設定して、顧客の購入意欲を高める。

問18 組立生産される製品 W, X, Y, Z の1個当たりの利益, 1個当たりの組立作業時間, 組立作業1分当たりの利益, 1週間の最大生産可能数は表のとおりである。1週間の利益を最大にするように生産計画を立てるとき, 製品 Z の生産個数は幾つか。ここで, 1週間の総組立作業時間は40時間であり, 製品 W, X, Y, Z の全てを生産する必要はなく, 同時には一つの製品しか組立生産できないものとする。

	1個当たりの利益 A (千円)	1個当たりの組立作業時間 B (分)	組立作業1分当たりの利益 C=A/B (千円/分)	1週間の最大生産可能数 D (個)
製品 W	50	20	2.5	40
製品 X	60	40	1.5	50
製品 Y	90	30	3	20
製品 Z	100	50	2	45

ア 0 イ 8 ウ 20 エ 45

問19 小売業を営むある企業の当期の売上高は1,500万円, 商品仕入高は1,000万円であった。期首の商品棚卸高が100万円, 期末の商品棚卸高が200万円であるとき, 当期の売上総利益は何万円か。

ア 200 イ 400 ウ 500 エ 600

問20 次の損益計算資料から求められる経常利益は何百万円か。

単位 百万円

項目	金額
売上高	2,000
売上原価	1,500
販売費及び一般管理費	300
営業外収益	30
営業外費用	20
特別利益	15
特別損失	25
法人税, 住民税及び事業税	80

ア 120

イ 190

ウ 200

エ 210

問21 一定の条件に該当する会社に対して、取締役の職務に関するコンプライアンスを確保するための体制整備を義務付けている法令はどれか。

ア 会社法

イ 金融商品取引法

ウ 公益通報者保護法

エ 民法

問22 導入予定のシステムについて、3種類の実現方式を検討している。各実現方式で見込まれる費用の内訳が表のとおりであるとき、導入後の運用期間を10年とした場合の開発・導入、運用、保守の総費用の大小関係を表したものはどれか。ここで、利用者は毎年4,000人で一定とする。また、記載のない条件（10年後の除却費、更改費用など）は考慮しない。

単位 円

	実現方式	初期費用	年間費用	
			運用	保守
A案	自主開発	4億	500万	200万
B案	パッケージ適用	2億	初期費用の15%	
C案	SaaS利用	5,000万	利用者1人当たり1万	300万

ア A案 > B案 > C案

イ A案 > C案 > B案

ウ B案 > C案 > A案

エ C案 > B案 > A案

問23 知的財産権のうち、全てが産業財産権に該当するものの組合せはどれか。

ア 意匠権、実用新案権、著作権

イ 意匠権、実用新案権、特許権

ウ 意匠権、著作権、特許権

エ 実用新案権、著作権、特許権

問24 部下の育成・指導事例のうち、OJTに当たるものはどれか。

- ア 部下に進路と目標を設定させ、その達成計画を立てさせた。
- イ 部下の進路を念頭において、人事部主催の管理者養成コースを受講させた。
- ウ 部下の設計能力の向上のために、新規開発のプロジェクトに参加させた。
- エ 部下の専門分野と進路に合った外部主催の講習会を選定し、受講させた。

問25 個人情報保護法で定める個人情報取扱事業者の義務が適用されないものはどれか。

- ア ガス会社が検針作業で取り扱う個人情報の管理
- イ 証券会社が株式売買で取り扱う個人情報の管理
- ウ 新聞社が報道で取り扱う個人情報の管理
- エ 鉄道会社が定期券販売で取り扱う個人情報の管理

問26 会社を組織的に運営するためのルールのうち、職務分掌を説明したものはどれか。

- ア 会社の基本となる経営組織、職制を定めたもの
- イ 各部門の職務の内容と責任及び権限を定めたもの
- ウ 従業員の労働条件などの就業に関する事項を定めたもの
- エ 法令、各種規則や社会的規範に照らして正しく行動することを定めたもの

問27 企業の業務と情報システムの現状を把握し、目標とするあるべき姿を設定して、全体最適を図りたい。このときに用いられる手法として、適切なものはどれか。

- ア DOA (Data Oriented Approach)
- イ EA (Enterprise Architecture)
- ウ OOA (Object Oriented Analysis)
- エ SOA (Service Oriented Architecture)

問28 製品やサービスの価値を機能とコストの関係で分析し、機能や品質の向上及びコスト削減などによって、その価値を高める手法はどれか。

- ア サプライチェーンマネジメント
- イ ナレッジマネジメント
- ウ バリューエンジニアリング
- エ リバースエンジニアリング

問29 一人一人のニーズを把握し、それを充足する製品やサービスを提供しようとするマーケティング手法はどれか。

- ア ソーシャルマーケティング
- イ テレマーケティング
- ウ マスマーケティング
- エ ワントゥワンマーケティング

問30 自動車メーカーA社では、近い将来の戦略を検討するため自社の強みと弱み、そして、外部環境の機会と脅威を整理した。この結果を基に、強みを活用して脅威を克服する対策案として、適切なものはどれか。

内部環境	<u>強み</u> ・強力なブランドイメージ ・多方面にわたる研究開発の蓄積	<u>弱み</u> ・熟練工の大量定年退職
外部環境	<u>機会</u> ・金利低下による金融緩和	<u>脅威</u> ・石油価格の高騰 ・環境保護意識の浸透

- ア 熟練工の定年を延長，又は再雇用を実施する。
- イ 低金利で資金を調達し，石油を大量に備蓄する。
- ウ 電気自動車の研究開発を推し進め，商品化する。
- エ ブランドイメージを生かして販売力を強化する。

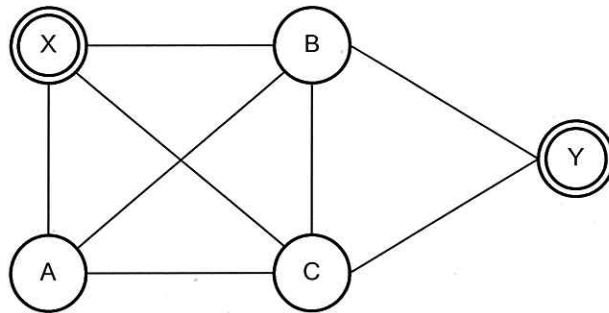
問31 事業コストを低減する方策として“範囲の経済”を追求する方法や“規模の経済”を追求する方法などがある。範囲の経済の追求に基づくコスト低減策として、適切なものはどれか。

- ア 共通の基盤技術を利用して複数の事業を行う。
- イ 継続的な業務改善を行う。
- ウ 工場での生産量を拡大する。
- エ 同一製品を複数の工場で生産する。

問32 品質管理において、測定値の存在する範囲を幾つかの区間に分け、各区間に入るデータの度数を棒グラフで表したものはどれか。

- ア 管理図 イ 特性要因図 ウ パレート図 エ ヒストグラム

問33 地点Xから出発してA, B, Cの3地点の全てを經由して地点Yまで行きたい。各地点間の経路と所要時間が図及び表のとおりであるとき、地点Xから地点Yまで行く最短の時間は何分か。ここで、3地点A, B, Cはどのような順番で經由してもよいものとする。



単位 分

		終 点			
		A	B	C	Y
始 点	X	20	20	40	不可
	A	—	40	30	不可
	B	40	—	20	60
	C	30	20	—	60

- ア 110 イ 130 ウ 140 エ 150

問34 次の特徴をもつ組織形態として，適切なものはどれか。

- ・組織の構成員が，お互い対等な関係にあり，自律性を有している。
- ・企業，部門の壁を乗り越えて編成されることもある。

ア アウトソーシング

イ タスクフォース

ウ ネットワーク組織

エ マトリックス組織

問 35 から問 55 までは、マネジメント系の問題です。

問35 ITガバナンスの実現を目的とした活動の事例として、最も適切なものはどれか。

- ア ある特定の操作を社内システムで行うと、無応答になる不具合を見つけたので、担当者ではないが自らの判断でシステムの修正を行った。
- イ 業務効率向上の経営戦略に基づき社内システムをどこでも利用できるようにするために、タブレット端末を活用する IT 戦略を立てて導入支援体制を確立した。
- ウ 社内システムが稼働しているサーバ、PC、ディスプレイなどを、地震で机やラックから転落しないように耐震テープで固定した。
- エ 社内システムの保守担当者が、自己のキャリアパス実現のためにプロジェクトマネジメント能力を高める必要があると考え、自己啓発を行った。

問36 ITサービスマネジメントにおける可用性管理の目的として、適切なものはどれか。

- ア IT サービスを提供する上で、目標とする稼働率を達成する。
- イ IT サービスを提供するシステムの変更を、確実に実施する。
- ウ サービス停止の根本原因を究明し、再発を防止する。
- エ 停止したサービスを可能な限り迅速に回復させる。

問37 システム開発部門のシステム監査における実施事項はどれか。

- ア 開発委託先と締結する委託契約書の作成
- イ 外部設計書のレビューで発見された不具合の修正
- ウ システム開発手順の不備の指摘
- エ プログラマに対するプログラミング教育

問38 システムの利用者からの問合せを電話で受け付けるサービスデスクのサービスレベルを評価するための項目の例として、適切なものはどれか。

ア サービスのコスト

イ システム障害の件数

ウ システムの可用性

エ 問合せの応答待ち時間

問39 システム監査人の役割に関する記述として、適切なものはどれか。

ア 業務の流れや内容に着目して、業務フロー、業務記述書、リスクコントロールマトリクスを作成し、リスクを評価し適切な統制を導入する。

イ 情報システムの企画、開発、運用、保守などの各局面に沿って、適切なモニタリングや自己点検の仕組みを導入し、情報システムが安定的に運用されるような措置を講じる。

ウ 情報システムのリスクが適切かつ効果的にコントロールされているかについて、被監査部門から独立した立場で検証し、依頼者に報告する。

エ 情報システムのリスクが適切にコントロールされるように、方針や目標を定め体制を整える。

問40 システム開発プロジェクトのテスト工程において、各担当者が報告書をチームリーダーに提出し、チームリーダーがそれらの内容をまとめてプロジェクトマネージャに報告している。次の報告ルールを定めているとき、チームリーダーの報告として適切なものはどれか。

〔報告ルール〕

- ・各担当者は、担当する機能のテストの進捗率を報告書に記載する。
- ・各担当者は、遅れがあるときに、その原因と対策内容を報告書に記載する。
- ・チームリーダーは、各担当者の進捗率の適切さを確認した後、それらを集約して全体の進捗率を求め、計画との差異、今後の見通しを報告書に記載する。
- ・チームリーダーは、遅れがあるときに、担当者にヒアリングを行い、原因と対策内容の妥当性を確認する。また、他チームへの影響を分析し、対応策と期限を報告書に記載する。

- ア 進捗に遅れのある担当者の報告だけを報告する。
- イ 担当者の報告を一覧化したものだけを報告する。
- ウ 担当者の報告を集約し、進捗に遅れがあるときはチームリーダーの見解を加える。
- エ チームリーダーの期待する進捗に合わせて担当者の進捗率を補正する。

問41 SLAの合意内容を達成するために、サービス状況のモニタリングやレビューなどを通じてサービスレベルの維持や向上を図る活動を何というか。

- ア CSR
- イ ERP
- ウ SLM
- エ SWOT

問42 システム開発のプロセスには、ソフトウェア要件定義、ソフトウェア方式設計、ソフトウェア結合テスト、ソフトウェア導入、ソフトウェア受入れなどがある。システム開発の関係者を開発者側と利用者側に分けたとき、ソフトウェア受入れで実施する作業はどれか。

- ア 開発が完了したソフトウェアを、開発者側が本番環境に配置する。
- イ 開発者側が利用者側にヒアリングを行って、ソフトウェアに要求される機能、性能を明確にする。
- ウ ソフトウェアが要件を満たしていて、利用できる水準であることを、利用者側が確認する。
- エ ソフトウェア要件定義書が利用者側のニーズを満たしていることを確認するために、開発者側がレビューを行う。

問43 システム開発のテストを、単体テスト、結合テスト、システムテスト、運用テストの順に行う場合、システムテストの内容として、適切なものはどれか。

- ア 個々のプログラムに誤りがないことを検証する。
- イ 性能要件を満たしていることを開発者が検証する。
- ウ プログラム間のインタフェースに誤りがないことを検証する。
- エ 利用者が実際に運用することで、業務の運用が要件どおり実施できることを検証する。

問44 システム開発プロジェクトにおけるリスク対応には、回避、転嫁、軽減、受容などがある。転嫁の事例として、適切なものはどれか。

- ア 財務的なリスクへの対応として保険を掛ける。
- イ スコープを縮小する。
- ウ より多くのテストを実施する。
- エ リスク発生時の対処に必要な予備費用を計上する。

問45 IT統制は、ITに係る業務処理統制や全般統制などに分類される。業務処理統制は業務を管理するシステムにおいて、承認された業務が全て正確に処理、記録されることを確保するための統制活動のことをいい、全般統制はそれぞれの業務処理統制が有効に機能する環境を保証する統制活動のことをいう。購買業務システムなどの自社システムを開発・運用などしている企業における統制活動に関する記述のうち、業務処理統制に当たるものはどれか。

- ア アクセス管理など自社システムの安全性を確保する統制
- イ 購買業務システムに入力されるデータが重複なく入力されるような統制
- ウ 自社システムの運用・管理に関する統制
- エ 自社システムの開発・保守に関する統制

問46 過去の類似プロジェクトのコスト実績を用いて、新たに開始するプロジェクトのコストを類推し見積もった。このようなコスト見積り方法の特徴はどれか。

- ア 詳細情報から積み上げる見積り方法より作業負荷が大きい。
- イ プロジェクトの初期より後期の段階で活用されることが多い。
- ウ 他の見積り方法より正確なコスト見積り結果が期待できる。
- エ 他の見積り方法より見積りに要する費用は少ないが、正確さでは劣る。

問47 プロジェクトスコープマネジメントに関する記述として、適切なものはどれか。

- ア プロジェクトが生み出す製品やサービスなどの成果物と、それらを完成するために必要な作業を定義し管理する。
- イ プロジェクト全体を通じて、最も長い所要期間を要する作業経路を管理する。
- ウ プロジェクトの結果に利害を及ぼす可能性がある事象を管理する。
- エ プロジェクトの実施とその結果によって利害を被る関係者を調整する。

問48 システム開発のための施設・設備を維持・保全するために、次のことを計画し、実施する活動として、適切なものはどれか。

プロジェクトルームの中に、テストデータの機密性を確保するための部屋を設置して入退室管理を行う。テスト作業用に設置したサーバは、停電時のデータ消失を防ぐために、無停電電源装置に接続する。

- ア アセットマネジメント
- イ 環境マネジメントシステム
- ウ 品質マネジメントシステム
- エ ファシリティマネジメント

問49 ユーザの要求を定義する場合に作成するプロトタイプはどれか。

- ア 基幹システムで生成されたデータをユーザ自身が抽出・加工するためのソフトウェア
- イ ユーザがシステムに要求する業務の流れを記述した図
- ウ ユーザとシステムのやり取りを記述した図
- エ ユーザの要求を理解するために作成する簡易なソフトウェア

問50 システム開発プロジェクトの工程を、システム要件定義、システム設計、プログラミング、テストの順に進めるとき、a～dのうち、品質の管理を実施する必要がある工程として、適切なものだけを全て挙げたものはどれか。

a システム要件定義

b システム設計

c プログラミング

d テスト

ア a, b, c, d

イ b, c, d

ウ c, d

エ d

問51 ある企業では、現在使用しているメールシステムのサポート終了に伴い、新メールシステムに移行する移行プロジェクトを実施している。プロジェクトの要件定義工程において、新メールシステムとして採用する市販のソフトウェアパッケージを選定し、そのパッケージを利用する際に考慮する必要がある条件を整理した。今回のプロジェクトは、移行作業を現行システムのサポート終了までに確実に実施する必要があるが、外部へ支出する費用はできるだけ安くしたい。次の a～d のうち、条件を考慮した上で外部から調達する必要があるものだけを全て挙げたものはどれか。

〔条件〕

- ・新メールシステムは自社の既存サーバで稼働させる。
- ・採用するソフトウェアパッケージは自社で保有していない。
- ・採用するソフトウェアパッケージを利用して新メールシステムを構築するスキルをもった要員が、自社にはいない。
- ・移行するメールのデータには、機密データが含まれている。
- ・メールのデータを移行するためのツールが市販されており、そのツールは自社の要員が使用することができる。

- a 新メールシステムが稼働するサーバ
- b 新メールシステムの構築作業
- c 新メールシステムのソフトウェアパッケージ
- d 新メールシステムへのデータ移行作業

ア a, b, c

イ a, b, c, d

ウ b, c

エ c

問52 次の表に示す作業全体の最短の所要日数を増やすことなく作業Eの所要日数を増やしたい。最大何日増やすことができるか。

作業	前提作業	所要日数
A	—	7
B	—	4
C	—	2
D	C	1
E	B, D	1

ア 0

イ 1

ウ 2

エ 3

問53 システム開発作業を実施するに当たり、生産性が同じメンバ6名で20日間掛けて完了する計画を立てた。しかし、15日間で作業が終わるように計画を変更することになり、新たなメンバを増員することとした。新メンバの生産性は当初予定していたメンバの半分であるとき、15日間で作業を終わらせるために必要な新メンバは最低何人か。

ア 1

イ 2

ウ 4

エ 6

問54 システム開発プロジェクトにおけるステークホルダに関する記述のうち、適切なものはどれか。

- ア システム開発プロジェクトに参画するプロジェクトチームのメンバはステークホルダである。
- イ システム開発プロジェクトの実行又は完了によって、売上の増加やシステム化による作業効率向上などの恩恵を受ける人及び組織だけがステークホルダである。
- ウ システム開発プロジェクトの費用を負担するプロジェクトスポンサだけがステークホルダである。
- エ システム開発プロジェクトのプロジェクトマネージャ自身はステークホルダに含まれない。

問55 情報システムの要件は、業務要件を実現するための機能を記述した機能要件と、性能や保守のしやすさなどについて記述した非機能要件に分類することができる。機能要件に該当するものはどれか。

- ア システムが取り扱う入出力データの種類
- イ システム障害発生時の許容復旧時間
- ウ システムの移行手順
- エ 目標とするシステムの品質と開発コスト

問 56 から問 100 までは、テクノロジー系の問題です。

問56 ブラウザとWebサーバ間の通信プロトコルを、HTTPからHTTPSに変更した。これによって実現できることとして、適切なものはどれか。

- ア クライアント PC と Web サーバ間の通信速度の向上
- イ コンピュータウイルス感染の防止
- ウ 通信の機密性の確保
- エ ブラウザの表示速度の向上

問57 情報セキュリティにおけるPKIに必要な不可欠な構成要素はどれか。

- ア VPN
- イ 認証局
- ウ バイオメトリクス認証
- エ ファイアウォール

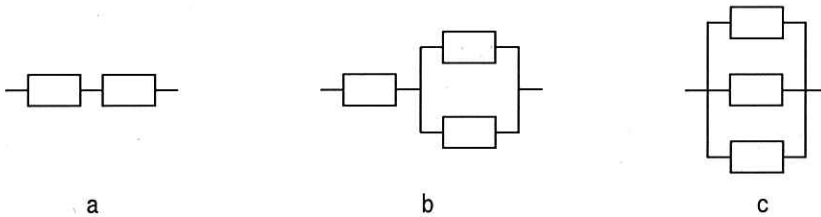
問58 情報セキュリティにおけるソーシャルエンジニアリングへの対策の例として、適切なものはどれか。

- ア ウイルスを検知、除去する機能を電子メールシステムに導入する。
- イ サーバへの攻撃を想定した擬似アタック試験を実施し、発見された脆弱性^{ぜい}への対策を行う。
- ウ 従業員のセキュリティ意識を高めるため、セキュリティ教育を行う。
- エ 停電に備えて、サーバールーム向けの自家発電装置を導入する。

問59 次のソフトウェアの組合せのうち、OSS (Open Source Software) だけの組合せはどれか。

- ア Internet Explorer, Linux, PostgreSQL
- イ Internet Explorer, PostgreSQL, Windows
- ウ Firefox, Linux, Thunderbird
- エ Firefox, Thunderbird, Windows

問60 同じ装置が複数接続されているシステム構成 a～c について、稼働率が高い順に並べたものはどれか。ここで、 \square は装置を表し、並列に接続されている場合はいずれか一つの装置が動作していればよく、直列に接続されている場合は全ての装置が動作していなければならない。



- | | |
|-----------|-----------|
| ア a, b, c | イ b, a, c |
| ウ c, a, b | エ c, b, a |

問61 ランサムウェアに関する記述として、適切なものはどれか。

- ア PC やファイルを使用不能にするなどして、回復のための金銭を要求する。
- イ コンピュータの画面へ自動的に広告を表示する。
- ウ 利用者がキーボードから入力した情報を記録し、外部に送信する。
- エ ワードプロソフトや表計算ソフトの文書ファイルに感染する。

問62 電子メールに関するプロトコルの説明のうち、適切な記述はどれか。

- ア IMAP4 によって、画像のようなバイナリデータを ASCII 文字列に変換して、電子メールで送ることができる。
- イ POP3 によって、PC から電子メールを送信することができる。
- ウ POP3 や IMAP4 によって、メールサーバから電子メールを受信することができる。
- エ SMTP によって、電子メールを暗号化することができる。

問63 フィッシングの説明として、適切なものはどれか。

- ア ウイルスに感染している PC へ攻撃者がネットワークを利用して指令を送り、不正なプログラムを実行させること
- イ 金融機関などからの電子メールを装い、偽サイトに誘導して暗証番号やクレジットカード番号などを不正に取得すること
- ウ パスワードに使われそうな文字列を網羅した辞書のデータを使用してパスワードを割り出すこと
- エ 複数のコンピュータから攻撃対象のサーバへ大量のパケットを送信し、サーバの機能を停止させること

問64 SQLインジェクションの対策などで用いられ、処理の誤動作を招かないように、利用者がWebサイトに入力した内容に含まれる有害な文字列を無害な文字列に置き換えることを何と呼ぶか。

- | | |
|-----------|----------------|
| ア サニタイジング | イ ストリーミング |
| ウ テザリング | エ リバースエンジニアリング |

問65 顧客の氏名、住所などが記載された住所録の取扱い a～dのうち、個人情報保護の観点から適切なものだけを全て挙げたものはどれか。

- a 顧客から本人の登録内容の確認希望があっても、情報の保護を理由に開示しない。
- b 住所録から全員の氏名と住所を抽出した一覧を作成し、それを顧客全員に配布して誤りが無いことを確認してもらう。
- c 住所録のデータを書き込んだCD-ROMを破棄するときには破砕する。
- d 住所録のデータをファイルに保存するときには暗号化する。

ア a, c, d イ a, d ウ b, c エ c, d

問66 インターネットのWebメールに関する記述①～③のうち、適切なものだけを全て挙げたものはどれか。

- ① PC に、電子メールの作成や送受信、受信した電子メールの保存や管理を行う専用のソフトウェアをインストールしておく必要がある。
- ② PC を買い替えた場合でも、過去の電子メールの移行が不要である。
- ③ ブラウザが動作し、インターネットに接続できる PC があれば、電子メール機能を利用することができる。

ア ①, ② イ ①, ③ ウ ②, ③ エ ③

問67 PCやサーバ，通信機器，プリンタなどの間での通信を行う事例のうち，WANを利用する必要があるものはどれか。

ア 大阪支社内の LAN に複数の PC と 1 台のファイルサーバを接続し，ファイルサーバに格納されたファイルを，その LAN に接続されたどの PC からでもアクセス可能とする。

イ 家庭内で，PC とプリンタを Bluetooth で接続し，PC で作成した資料をプリンタで印刷する。

ウ サーバルーム内で，PC と Web サーバをハブに接続し，PC から Web サーバのメンテナンスを行う。

エ 福岡営業所内の LAN に接続された PC から，東京本社内のサーバにアクセスし，売上情報をアップロードする。

問68 MACアドレスに関する記述のうち，適切なものはどれか。

ア 同じアドレスをもつ機器は世界中で一つしか存在しないように割り当てられる。

イ 国別情報が含まれており，同じアドレスをもつ機器は各国に一つしか存在しないように割り当てられる。

ウ ネットワーク管理者によって割り当てられる。

エ プロバイダ（ISP）によって割り当てられる。

問69 ソフトウェアの不具合を修正するために提供されるファイルのことを何と呼ぶか。

ア パターンファイル

イ バックアップファイル

ウ バッチファイル

エ パッチファイル

問70 サブネットマスクの役割として、適切なものはどれか。

- ア IP アドレスから Ethernet 上の MAC アドレスを割り出す。
- イ IP アドレスに含まれるネットワークアドレスと、そのネットワークに属する個々のコンピュータのホストアドレスを区分する。
- ウ インターネットと内部ネットワークを中継するときのグローバル IP アドレスとプライベート IP アドレスを対応付ける。
- エ 通信相手先のドメイン名と IP アドレスを対応付ける。

問71 ネットワークの交換方式に関する記述のうち、適切なものはどれか。

- ア 回線交換方式では、通信利用者間で通信経路を占有するので、接続速度や回線品質の保証を行いやすい。
- イ 回線交換方式はメタリック線を使用するので、アナログ信号だけを扱える。
- ウ パケット交換方式は、複数の端末で伝送路を共有しないので、通信回線の利用効率が悪い。
- エ パケット交換方式は無線だけで利用でき、回線交換方式は有線だけで利用できる。

問72 機械的な可動部分が無く、電力消費も少ないという特徴をもつ補助記憶装置はどれか。

- | | |
|-------------|-----------|
| ア CD-RWドライブ | イ DVDドライブ |
| ウ HDD | エ SSD |

問73 情報セキュリティマネジメントシステムを構築した企業において、情報セキュリティ方針を改訂したことを周知する範囲として、適切なものはどれか。

- ア 機密情報を扱う部署の従業員
- イ 経営者
- ウ 全ての従業員及び関連する外部関係者
- エ セキュリティ管理者

問74 無線LANのアクセスポイントに備わるセキュリティ対策のうち、自身のESSIDの発信を停止するものはどれか。

- ア MACアドレスフィルタリング
- イ WEP
- ウ WPA
- エ ステルス機能

問75 デュアルシステムの特徴を説明したものはどれか。

- ア 同じ処理を行うシステムを二重に用意し、処理結果を照合することで処理の正しさを確認する方式であり、一方に故障が発生したら、故障したシステムを切り離して処理を続行する。
- イ 同じ装置を2台使用することで、シンプレックスシステムに対し、処理能力を2倍に向上させることができる。
- ウ オンライン処理を行う現用系システムと、バッチ処理などを行いながら待機させる待機系のシステムを用意し、現用系に障害が発生した場合は待機系に切り替え、オンライン処理を起動してサービスを続行する。
- エ 複数の装置を直列に接続し、それらの間で機能ごとに負荷を分散するように構成しているので、処理能力は高いが、各機能を担当する装置のうちどれか一つでも故障するとサービスが提供できなくなる。

問76 認証方式を“知識による認証”，“所持品による認証”及び“個人の身体的・行動的特徴による認証”の三つに分類したとき，“個人の身体的・行動的特徴による認証”に分類されるものはどれか。

ア IDカードによる認証

イ ニーモニック認証

ウ バイオメトリクス認証

エ パスワード認証

問77 セキュリティリスクへの対応には，リスク移転，リスク回避，リスク受容，リスク低減などがある。リスク移転に該当する事例はどれか。

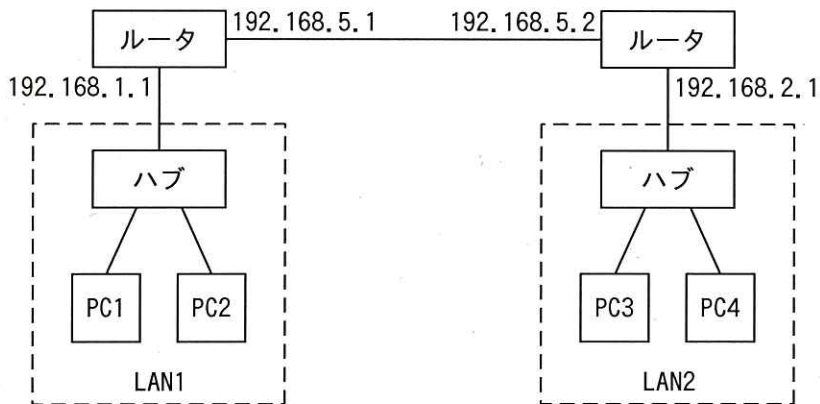
ア セキュリティ対策を行って，問題発生の可能性を下げた。

イ 問題発生時の損害に備えて，保険に入った。

ウ リスクが小さいことを確認し，問題発生時は損害を負担することにした。

エ リスクの大きいサービスから撤退した。

問78 ハブとルータを使用してPC1～4が相互に通信できるように構成したTCP/IPネットワークがある。ルータの各ポートに設定したIPアドレスが図のとおりであるとき、PC1に設定するデフォルトゲートウェイのIPアドレスとして、適切なものはどれか。



ア 192.168.1.1 イ 192.168.2.1 ウ 192.168.5.1 エ 192.168.5.2

問79 Webサイトによっては、ブラウザで閲覧したときの情報を、ブラウザを介して閲覧者のPCに保存することがある。以後このWebサイトにアクセスした際は保存された情報を使い、閲覧の利便性を高めることができる。このような目的で利用される仕組みはどれか。

ア Cookie イ SQL ウ URL エ XML

問80 表計算ソフトを用いて、買い物金額に応じたポイント数を計算する。買い物金額が1,000円以下では買い物金額の1%、買い物金額が1,000円を超え3,000円以下では買い物金額の2%、買い物金額が3,000円を超える場合は買い物金額の3%のポイントを付与する。ワークシートのセルA2に買い物金額が入力されるとき、ポイント数が表示されるセルB2に入る数式はどれか。ここで、ポイント数の小数点以下は切捨てとする。

	A	B
1	買い物金額	ポイント数
2	3,350	100

- ア IF(A2 \geq 3000, 整数部(A2*3/100),
IF(A2 \geq 1000, 整数部(A2/100), 整数部(A2*2/100)))
- イ IF(A2 $>$ 3000, 整数部(A2*3/100),
IF(A2 $>$ 1000, 整数部(A2/100), 整数部(A2*2/100)))
- ウ IF(A2 \leq 1000, 整数部(A2/100),
IF(A2 \leq 3000, 整数部(A2*2/100), 整数部(A2*3/100)))
- エ IF(A2 $<$ 1000, 整数部(A2/100),
IF(A2 $<$ 3000, 整数部(A2*2/100), 整数部(A2*3/100)))

問81 PCに接続された周辺装置と、OSやアプリケーションソフトとを仲介して、周辺装置を制御・操作するソフトウェアはどれか。

- ア アーカイバ
イ インストーラ
ウ デバイスドライバ
エ ミドルウェア

問82 ファイルを4冊まで置くことができる机で、A～Fの6冊のファイルを使って仕事を
 する。机上に5冊目のファイルを置きたいときは、机上の4冊のファイルのうち、
 最後に参照してから最も時間が経過しているファイルを引き出しにしまうことに
 する。ファイルをA, B, C, D, E, C, B, D, F, Bの順で机上に置いて参照すると
 き、最後に引き出しにしまうファイルはどれか。

ア A イ B ウ D エ E

問83 情報セキュリティにおいて、可用性が損なわれる事象はどれか。

- ア 機密情報のコピーが格納された USB メモリが盗難にあった。
- イ 顧客情報管理システムの顧客情報が誤った内容のまま運用されていた。
- ウ 社内のサーバに不正侵入されて、社外秘の情報が漏えいした。
- エ 取引先との電子決済システムが DoS 攻撃を受け、処理ができなくなった。

問84 データベースを設計するときに、データの関連を整理して表現することを目的と
 して使われるものはどれか。

- ア E-R 図 イ アローダイアグラム
- ウ ガントチャート エ フローチャート

問85 利用者がPCの電源を入れてから、そのPCが使える状態になるまでを四つの段階に分けたとき、最初に実行される段階はどれか。

- ア BIOS の読み込み
- イ OS の読み込み
- ウ ウイルス対策ソフトなどの常駐アプリケーションソフトの読み込み
- エ デバイスドライバの読み込み

問86 情報セキュリティにおけるソーシャルエンジニアリングの例として、適切なものはどれか。

- ア 社員を装った電話を社外からかけて、社内の機密情報を聞き出す。
- イ 送信元 IP アドレスを偽装したパケットを送り、アクセス制限をすり抜ける。
- ウ ネットワーク上のパケットを盗聴し、パスワードなどを不正に入手する。
- エ 利用者が実行すると、不正な動作をするソフトウェアをダウンロードする。

問87 公開鍵暗号方式を用いた機密データの受渡しに関する記述中の a, b に入れる字句の適切な組合せはどれか。

データの受信者Aは、自分の 鍵と 鍵を用意して 鍵を送信者Bに送付する。データの送信者Bは、受信者Aから送付された 鍵を用いてデータを暗号化して受信者Aに送信する。受信者Aは、送信者Bから受信した暗号化されたデータを自分の 鍵を使って復号する。

	a	b
ア	公開	共通
イ	公開	秘密
ウ	秘密	公開
エ	秘密	共通

問88 感光ドラム上に印刷イメージを作り、粉末インク（トナー）を付着させて紙に転写、定着させる方式のプリンタはどれか。

- ア インクジェットプリンタ イ インパクトプリンタ
ウ 熱転写プリンタ エ レーザプリンタ

問89 セキュリティを保つべきサーバールームの運用例として、適切なものはどれか。

- ア 管理を容易にするために、入退室に使用するIDカードは個人ごとではなく部署ごとに発行する。
- イ 全従業員や来訪者に所在が分かるように、入口に室名表示をする。
- ウ 入退室の情報が漏えいすることを防止するために、入退室の記録は取らない。
- エ 不正行為を防止するために、監督者がいないときはサーバ室で作業させない。

問90 認証に必要な情報の変更又は更新を定期的に行う必要がないものだけを全て挙げたものはどれか。

- a 虹彩認証
- b 電子証明書による認証
- c パスワード認証

ア a イ b ウ c エ a, b

問91 ISMS適合性評価制度に関する次の記述中の a, b に入れる字句の適切な組合せはどれか。

企業などの組織において、 マネジメントシステムが適切に構築，運用され，ISMS 認証基準の要求事項に適合していることを が審査して認証する制度である。

	a	b
ア	個人情報保護	組織内の監査を行う部署
イ	個人情報保護	特定の第三者機関
ウ	情報セキュリティ	組織内の監査を行う部署
エ	情報セキュリティ	特定の第三者機関

問92 毎週日曜日の業務終了後にフルバックアップファイルを取得し，月曜日～土曜日の業務終了後には増分バックアップファイルを取得しているシステムがある。水曜日の業務中に故障が発生したので，バックアップファイルを使って火曜日の業務終了時点の状態にデータを復元することにした。データ復元に必要なバックアップファイルを全て挙げたものはどれか。ここで，増分バックアップファイルとは，前回のバックアップファイル（フルバックアップファイル又は増分バックアップファイル）の取得以降に変更されたデータだけのバックアップファイルを意味する。

- ア 日曜日のフルバックアップファイル，月曜日と火曜日の増分バックアップファイル
- イ 日曜日のフルバックアップファイル，火曜日の増分バックアップファイル
- ウ 月曜日と火曜日の増分バックアップファイル
- エ 火曜日の増分バックアップファイル

問93 シングルサインオンの説明として、適切なものはどれか。

- ア ある PC からサーバにログインしている間は、他の PC から同じユーザ ID でログインできないようにする仕組み
- イ 最初に認証に成功すると、その後は許可された複数のサービスに対して、利用者が都度認証の手続をしなくとも利用できるようにする仕組み
- ウ 利用者が認証局 (CA) から発行された電子証明書を一度 PC に登録しておけば、PC へのログインの際に電子証明書によって本人認証をする仕組み
- エ 利用者が認証の際に使用するパスワードに、一度しか使えない使い捨てのパスワードを使うことで、不正アクセスを防止する仕組み

問94 商品の仕入状況を管理している関係データベースの“仕入一覧”表を正規化して、“仕入”表と“商品”表に分割したい。分割後の二つの表に共通して必要なフィールドとして、最も適切なものはどれか。ここで、仕入れは一度に一つの商品だけを仕入れることとし、仕入番号で一意に識別できる。また、商品は商品番号で一意に識別できる。

仕入一覧

仕入番号	商品番号	商品名	個数	単価	支払方法	納品日
------	------	-----	----	----	------	-----

- ア 仕入番号 イ 支払方法 ウ 商品番号 エ 商品名

問95 表1と表2に、ある操作を行って表3が得られた。行った操作だけを全て挙げたものはどれか。

表 1

品名コード	品名	価格	メーカー
001	ラーメン	150	A社
002	うどん	130	B社

表 2

品名コード	棚番号
001	1
002	5

表 3

品名	価格	棚番号
ラーメン	150	1
うどん	130	5

ア 結合

ウ 結合, 選択

イ 結合, 射影

エ 選択, 射影

問96 関係データベースの“成績”表から学生を抽出するとき、選択される学生数が最も多い抽出条件はどれか。ここで、“%”は0文字以上の任意の文字列を表すものとする。また、数学及び国語は、それぞれ60点以上であれば合格とする。

成績

学籍番号	氏名	数学の点数	国語の点数
H001	佐藤 花子	50	90
H002	鈴木 二郎	55	70
H003	金子 一郎	90	95
H004	高橋 春子	70	55
H005	子安 三郎	95	60

- ア 国語が合格で、かつ、氏名が“%子”に該当する学生
- イ 国語が合格で、かつ、氏名が“子%”に該当する学生
- ウ 数学、国語ともに合格の学生
- エ 数学が合格で、かつ、氏名が“%子%”に該当する学生

問97 拡張子“avi”が付くファイルが扱う対象として、最も適切なものはどれか。

- ア 音声
- イ 静止画
- ウ 動画
- エ 文書

問98 それぞれが独立に点灯／消灯の操作ができる5個のランプが並んでいる。2個以上のランプが点灯しているパターンは何通りあるか。ここで、全てが点灯しているパターンは1通り、いずれか1個が点灯しているパターンは5通りと数えるものとする。

- ア 4
- イ 10
- ウ 26
- エ 32

問99 インタフェースの規格①～④のうち、接続ケーブルなどによる物理的な接続を必要としない規格だけを全て挙げたものはどれか。

- ① Bluetooth
- ② IEEE 1394
- ③ IrDA
- ④ USB 3.0

ア ①, ② イ ①, ③ ウ ②, ③ エ ③, ④

問100 拡張現実 (AR) に関する記述として、適切なものはどれか。

- ア 実際に搭載されているメモリの容量を超える記憶空間を作り出し、主記憶として使えるようにする技術
- イ 実際の環境を捉えているカメラ映像などに、コンピュータが作り出す情報を重ね合わせて表示する技術
- ウ 人間の音声をコンピュータで解析してデジタル化し、コンピュータへの命令や文字入力などに利用する技術
- エ 人間の推論や学習、言語理解の能力など知的な作業を、コンピュータを用いて模倣するための科学や技術

表計算ソフトの機能・用語 (IT パスポート試験用)

表計算ソフトの機能、用語などは、原則として次による。

なお、ワークシートの保存、読出し、印刷、罫線作成やグラフ作成など、ここで示す以外の機能などを使用するときには、問題文中に示す。

1. ワークシート

- (1) 列と行とで構成される升目の作業領域をワークシートという。ワークシートの大きさは 256 列、10,000 行とする。
- (2) ワークシートの列と行のそれぞれの位置は、列番号と行番号で表す。列番号は、最左端列の列番号を A とし、A, B, …, Z, AA, AB, …, AZ, BA, BB, …, BZ, …, IU, IV と表す。行番号は、最上端行の行番号を 1 とし、1, 2, …, 10000 と表す。
- (3) 複数のワークシートを利用することができる。このとき、各ワークシートには一意のワークシート名を付けて、他のワークシートと区別する。

2. セルとセル範囲

- (1) ワークシートを構成する各升をセルという。その位置は列番号と行番号で表し、それをセル番地という。

[例] 列 A 行 1 にあるセルのセル番地は、A1 と表す。

- (2) ワークシート内のある長方形の領域に含まれる全てのセルの集まりを扱う場合、長方形の左上端と右下端のセル番地及び“:”を用いて、“左上端のセル番地:右下端のセル番地”と表す。これを、セル範囲という。

[例] 左上端のセル番地が A1 で、右下端のセル番地が B3 のセル範囲は、A1:B3 と表す。

- (3) 他のワークシートのセル番地又はセル範囲を指定する場合には、ワークシート名と“!”を用い、それぞれ“ワークシート名!セル番地”又は“ワークシート名!セル範囲”と表す。

[例] ワークシート“シート1”のセル B5 ~ G10 を、別のワークシートから指定する場合には、シート1!B5:G10 と表す。

3. 値と式

- (1) セルは値をもち、その値はセル番地によって参照できる。値には、数値、文字列、論理値及び空値がある。

- (2) 文字列は一重引用符“'”で囲って表す。

[例] 文字列“A”, “BC”は、それぞれ'A', 'BC' と表す。

- (3) 論理値の真を true, 偽を false と表す。

- (4) 空値を null と表し、空値をもつセルを空白セルという。セルの初期状態は、空白セルとする。

- (5) セルには、式を入力することができる。セルは、式を評価した結果の値をもつ。
- (6) 式は、定数、セル番地、演算子、括弧及び関数から構成される。定数は、数値、文字列、論理値又は空値を表す表記とする。式中のセル番地は、その番地のセルの値を参照する。
- (7) 式には、算術式、文字式及び論理式がある。評価の結果が数値となる式を算術式、文字列となる式を文字式、論理値となる式を論理式という。
- (8) セルに式を入力すると、式は直ちに評価される。式が参照するセルの値が変化したときには、直ちに、適切に再評価される。

4. 演算子

- (1) 単項演算子は、正符号“+”及び負符号“-”とする。
- (2) 算術演算子は、加算“+”，減算“-”，乗算“*”，除算“/”及びべき乗“^”とする。
- (3) 比較演算子は、より大きい“>”，より小さい“<”，以上“≥”，以下“≤”，等しい“=”及び等しくない“≠”とする。
- (4) 括弧は丸括弧“(”及び“) ”を使う。
- (5) 式中に複数の演算及び括弧があるときの計算の順序は、次表の優先順位に従う。

演算の種類	演算子	優先順位
括弧	()	高  低
べき乗演算	^	
単項演算	+, -	
乗除演算	*, /	
加減演算	+, -	
比較演算	>, <, ≥, ≤, =, ≠	

5. セルの複写

- (1) セルの値又は式を、他のセルに複写することができる。
- (2) セルを複写する場合で、複写元のセル中にセル番地を含む式が入力されているとき、複写元と複写先のセル番地の差を維持するように、式中のセル番地を変化させるセルの参照方法を相対参照という。この場合、複写先のセルとの列番号の差及び行番号の差を、複写元のセルに入力された式中の各セル番地に加算した式が、複写先のセルに入る。
 [例] セル A6 に式 A1 + 5 が入力されているとき、このセルをセル B8 に複写すると、セル B8 には式 B3 + 5 が入る。
- (3) セルを複写する場合で、複写元のセル中にセル番地を含む式が入力されているとき、そのセル番地の列番号と行番号の両方又は片方を変化させないセルの参照方法を絶対参照という。絶対参照を適用する列番号と行番号の両方又は片方の直前には“\$”を付ける。
 [例] セル B1 に式 \$A\$1 + \$A\$2 + A\$5 が入力されているとき、このセルをセル C4 に複写

すると、セル C4 には式 $\$A\$1 + \$A5 + B\5 が入る。

(4) セルを複写する場合で、複写元のセル中に、他のワークシートを参照する式が入力されているとき、その参照するワークシートのワークシート名は複写先でも変わらない。

[例] ワークシート“シート2”のセル A6 に式 シート1!A1 が入力されているとき、このセルをワークシート“シート3”のセル B8 に複写すると、セル B8 には式 シート1!B3 が入る。

6. 関数

式には次の表で定義する関数を利用することができる。

書式	解 説
合計(セル範囲 ¹⁾)	セル範囲に含まれる数値の合計を返す。 [例] 合計(A1:B5)は、セル A1 ~ B5 に含まれる数値の合計を返す。
平均(セル範囲 ¹⁾)	セル範囲に含まれる数値の平均を返す。
標本標準偏差(セル範囲 ¹⁾)	セル範囲に含まれる数値を標本として計算した標準偏差を返す。
母標準偏差(セル範囲 ¹⁾)	セル範囲に含まれる数値を母集団として計算した標準偏差を返す。
最大(セル範囲 ¹⁾)	セル範囲に含まれる数値の最大値を返す。
最小(セル範囲 ¹⁾)	セル範囲に含まれる数値の最小値を返す。
IF(論理式, 式1, 式2)	論理式の値が true のとき式 1 の値を、false のとき式 2 の値を返す。 [例] IF(B3 > A4, '北海道', C4) は、セル B3 の値がセル A4 の値より大きいとき文字列“北海道”を、それ以外るときセル C4 の値を返す。
個数(セル範囲)	セル範囲に含まれるセルのうち、空白セルでないセルの個数を返す。
条件付個数(セル範囲, 検索条件の記述)	セル範囲に含まれるセルのうち、検索条件の記述で指定された条件を満たすセルの個数を返す。検索条件の記述は比較演算子と式の組で記述し、セル範囲に含まれる各セルと式の値を、指定した比較演算子によって評価する。 [例1] 条件付個数(H5:L9, > A1) は、セル H5 ~ L9 のセルのうち、セル A1 の値より大きな値をもつセルの個数を返す。 [例2] 条件付個数(H5:L9, = 'A4') は、セル H5 ~ L9 のセルのうち、文字列“A4”をもつセルの個数を返す。
整数部(算術式)	算術式の値以下で最大の整数を返す。 [例1] 整数部(3.9) は、3 を返す。 [例2] 整数部(-3.9) は、-4 を返す。
剰余(算術式1, 算術式2)	算術式1 の値を被除数、算術式2 の値を除数として除算を行ったときの剰余を返す。関数“剰余”と“整数部”は、剰余(x,y) = x - y * 整数部(x/y) という関係を満たす。 [例1] 剰余(10,3) は、1 を返す。 [例2] 剰余(-10,3) は、2 を返す。
平方根(算術式)	算術式の値の非負の平方根を返す。算術式の値は、非負の数値でなければならない。
論理積(論理式1, 論理式2, …) ²⁾	論理式1, 論理式2, … の値が全て true のとき、true を返す。それ以外るとき false を返す。
論理和(論理式1, 論理式2, …) ²⁾	論理式1, 論理式2, … の値のうち、少なくとも一つが true のとき、true を返す。それ以外るとき false を返す。
否定(論理式)	論理式の値が true のとき false を、false のとき true を返す。

切上げ (算術式, 桁位置)	算術式の値を指定した桁位置で、関数“切上げ”は切り上げた値を、関数“四捨五入”は四捨五入した値を、関数“切捨て”は切り捨てた値を返す。ここで、桁位置は小数第1位の桁を0とし、右方向を正として数えたときの位置とする。
四捨五入 (算術式, 桁位置)	[例1] 切上げ(-314.059,2)は、-314.06を返す。
切捨て (算術式, 桁位置)	[例2] 切上げ(314.059,-2)は、400を返す。 [例3] 切上げ(314.059,0)は、315を返す。
結合(式1,式2,...) ²⁾	式1, 式2, …のそれぞれの値を文字列として扱い、それらを引数の順につないでできる一つの文字列を返す。 [例] 結合('北海道','九州',123,456)は、文字列“北海道九州123456”を返す。
順位 (算術式, セル範囲 ¹⁾ , 順序の指定)	セル範囲の中での算術式の値の順位を、順序の指定が0の場合は昇順で、1の場合は降順で数えて、その順位を返す。ここで、セル範囲の中に同じ値がある場合、それらを同順とし、次の順位は同順の個数だけ加算した順位とする。
乱数()	0以上1未満の一樣乱数(実数値)を返す。
表引き(セル範囲, 行の位置, 列の位置)	セル範囲の左上端から行と列をそれぞれ1, 2, …と数え、セル範囲に含まれる行の位置と列の位置で指定した場所にあるセルの値を返す。 [例] 表引き(A3:H11,2,5)は、セルE4の値を返す。
垂直照合(式, セル範囲, 列の位置, 検索の指定)	セル範囲の左端列を上から下に走査し、検索の指定によって指定される条件を満たすセルが現れる最初の行を探す。その行に対して、セル範囲の左端列から列を1, 2, …と数え、セル範囲に含まれる列の位置で指定した列にあるセルの値を返す。 ・検索の指定が0の場合の条件: 式の値と一致する値を検索する。 ・検索の指定が1の場合の条件: 式の値以下の最大値を検索する。このとき、左端列は上から順に昇順に整列されている必要がある。 [例] 垂直照合(15,A2:E10,5,0)は、セル範囲の左端列をセルA2, A3, …, A10と探す。このとき、セルA6で15を最初に見つけたとすると、左端列Aから数えて5列目の列E中で、セルA6と同じ行にあるセルE6の値を返す。
水平照合(式, セル範囲, 行の位置, 検索の指定)	セル範囲の上端行を左から右に走査し、検索の指定によって指定される条件を満たすセルが現れる最初の列を探す。その列に対して、セル範囲の上端行から行を1, 2, …と数え、セル範囲に含まれる行の位置で指定した行にあるセルの値を返す。 ・検索の指定が0の場合の条件: 式の値と一致する値を検索する。 ・検索の指定が1の場合の条件: 式の値以下の最大値を検索する。このとき、上端行は左から順に昇順に整列されている必要がある。 [例] 水平照合(15,A2:G6,5,1)は、セル範囲の上端行をセルA2, B2, …, G2と探す。このとき、15以下の最大値をセルD2で最初に見つけたとすると、上端行2から数えて5行目の行6中で、セルD2と同じ列にあるセルD6の値を返す。

注¹⁾ 引数として渡したセル範囲の中で、数値以外の値は処理の対象としない。

注²⁾ 引数として渡すことができる式の個数は、1以上である。

試験問題に記載されている会社名又は製品名は、それぞれ各社の商標又は登録商標です。

なお、試験問題では、TM 及び [®] を明記していません。

©2016 独立行政法人情報処理推進機構